

Nome do Candidato: _____

Instruções:

- Leia atentamente e responda todas as questões.
- Para cada questão existe apenas uma alternativa correta.
- A alternativa escolhida deverá ser marcada no RASCUNHO e depois transcrita no GABARITO DEFINITIVO.
- A alternativa escolhida deverá ser marcada com tinta preta ou azul, preenchendo todo o quadro e sem rasuras.
- Em caso de dúvida, levante a mão e aguarde em seu lugar, até ser atendido pelo fiscal.
- A prova terá duração máxima de 3h (três horas), incluindo o preenchimento da FOLHA DEFINITIVA DE RESPOSTAS E FOLHA DE REDAÇÃO.
- O vestibulando não poderá sair da sala antes de decorrida 1h de prova.

Língua Portuguesa

QUESTÃO I QUESTÃO I

Leia o texto abaixo e depois responda as questões 1 e 2.

M

MAIS DIFÍCIL DO QUE TER
UMA GRANDE IDEIA, É
RECONHECER UMA,
ESPECIALMENTE SE ELA
FOR DE OUTRA PESSOA.
- WASHINGTON OLIVETTO

A palavra “ideia” que aparece no texto não apresenta mais acento assim como as palavras:

- a) baiuca - feiura
- b) joia - heroico
- c) assembleia - heroi
- d) doi - plateia
- e) n. d. a.

Na frase: “Especialmente se ela for de outra pessoa.”, o “se” estabelece uma relação com a sentença anterior de:

- a) consequência
- b) finalidade
- c) tempo
- d) comparação
- e) condição

Assinale a alternativa em que a forma verbal destacada está INCORRETA:

- a) Quando você vier, já não estarei aqui.

- b) Se eu pudesse, iria agora mesmo até você.
- c) No momento em que Maria o ver, tudo o mais não terá importância.
- d) Basta que alguém da família esteja presente para que a cerimônia se inicie.
- e) Pense que você é indispensável naquele lugar.

A separação das sílabas de todas as palavras está correta na alternativa:

- a) as-sé-dio; as-pec-to; trans-tor-no
- b) au-tó-cto-ne; po-lis-sí-la-bo; i-di-o-ta
- c) ca-u-le; pa-ís; pois
- d) fe-i-nho; ca-rre- tel; gra-tui-to
- e) fôr-ce-ps; moi-nho; ba-i-nha

A alternativa INCORRETA quanto à colocação da crase é:

- a) Os rivais ficaram cara a cara.
- b) Quando pudermos, voltaremos à Bahia.
- c) Estava à toa na vida.
- d) Abrimos de segunda a sexta-feira.
- e) Daqui à dois quilômetros, você encontrará um posto de gasolina.

A figura de linguagem presente em cada texto está INCORRETAMENTE apontada na alternativa:

- a) “ como saber/que macieza/nos seus cabelos/que cheiro morno/na sua carne/que gosto doce/na sua boca!”= sinestesia
- b) “Onde queres família, sou maluco/E onde queres romântico, burguês/Onde queres Leblon, sou Pernambuco/E onde queres eunuco, garanhão/Onde queres o sim e o não, talvez” = antítese



c) "Todo dia ela faz tudo sempre igual/me sacode às seis horas da manhã/me sorri um sorriso pontual/e me beija com a boca de hortelã" = pleonasmo

d) "Quando a Indesejada das gentes chegar / (Não sei se dura ou caroável), /talvez eu tenha medo. /Talvez sorria, ou diga: /- Alô, iniludível! /O meu dia foi bom, pode a noite descer" = catacrese

e) "As velas do Mucuripe vão sair para pescar/vão levar as minhas mágoas/pras águas fundas do mar" = metonímia

Com o termo "epifania", a crítica designa um momento especial nos contos de Clarice Lispector, que significa:

- a) Um momento de revelação religiosa, apontando para o transcendente, o divino.
- b) Um momento de iluminação dos personagens, uma espécie de autoconhecimento, de descoberta.
- c) Uma situação de equilíbrio, colocada no início da narrativa.
- d) O momento final da narrativa, caracterizado pela restauração da ordem e do equilíbrio.
- e) A passagem mais lírica e poética da narrativa.

Assinale a alternativa incorreta em relação ao autor e sua obra:

- a) A sinestesia é uma figura constante na poesia de Cecília Meireles, numa tentativa de traduzir o real por meio de impressões sensoriais.
- b) A prosa de Lygia Fagundes Teles apresenta os conflitos internos dos personagens.
- c) Conflitos existenciais marcam muitos momentos da prosa de Clarice Lispector.

d) A prosa de Guimarães Rosa não se limita ao mero regionalismo, mas adquire dimensões universais.

e) A poesia de João Cabral de Melo Neto tematiza somente questões sociais, sem nenhuma preocupação com o processo da criação poética.

Matemática

Duas empreiteiras farão conjuntamente a pavimentação de uma estrada, cada uma trabalhando a partir de uma das extremidades. Se uma delas pavimentar $\frac{2}{5}$ da estrada e a outra os 81km restantes, a extensão dessa estrada é de:

- a) 125 km
- b) 135 km
- c) 142 km
- d) 145 km
- e) 160 km

Um recipiente cheio de água pesa 400 g; com $\frac{1}{3}$ da água pesa 200 g. O peso do recipiente vazio é:

- a) 200 g
- b) 110 g
- c) 100 g
- d) 50 g
- e) 90 g

Um reservatório, contendo 500 litros de água, dispõe de uma válvula na sua parte inferior. Um dispositivo foi utilizado para registrar o volume de água a cada instante, a partir do momento em que a válvula foi aberta. Os valores obtidos durante a operação permitiram construir o gráfico do volume de água (em litros) em função do tempo (em minutos).

Quanto tempo levou para esvaziar completamente o reservatório?

- a) 500min
- b) 35min
- c) 40min
- d) 10min
- e) 5min

Simplificando a expressão $\frac{x^2y - xy^2}{x^2 - xy}$ obtemos:

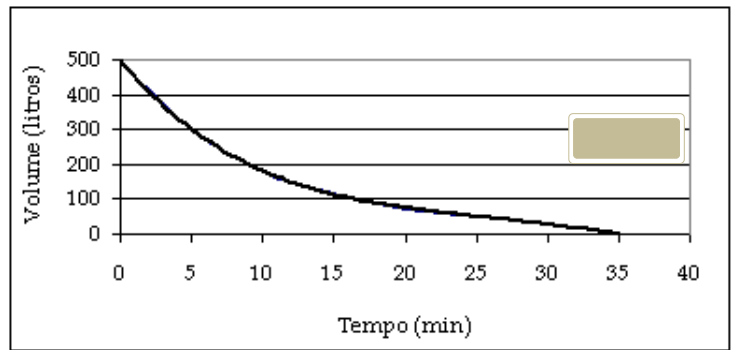
- a) $y - xy - x$
- b) $-y^2 - y^2$
- c) yy
- d) xx
- e) $x^2 - yx^2 - y$

Biologia

O vôo das aves é uma atividade que demanda um grande gasto energético. Em relação a esse gasto existe uma grande utilização direta do sistema:

- a) locomotor.
- b) excretor.
- c) reprodutor.
- d) hormonal.
- e) cardio-respiratório.

Certa ocasião, alguns trechos de floresta Amazônica foram derrubados para dar lugar a grandes plantações de Castanha-do-Pará. Entretanto, a experiência foi



um desastre. Com a derrubada da floresta, a única espécie de abelha que visita as flores dessa árvore sumiu da região e, dessa forma, a produção de castanha não aconteceu. Nesse caso, o processo afetado com a alteração do ambiente foi:

- a) o inquilinismo.
- b) o parasitismo.
- c) a cooperação.
- d) a polinização.
- e) a herbivoria.

Os Filos do reino Vegetal apresentam características distintas, que mostram uma evolução buscando uma melhor adaptação ao meio ambiente. Em relação aos indivíduos do reino vegetal, pode-se afirmar que os(as):

- a) briófitas não dependem diretamente da água para sua reprodução.
- b) fungos são vegetais aclorofilados.
- c) flores das pteridófitas são frutos modificados.
- d) gimnospermas possuem flores e frutos verdadeiros.
- e) frutos das angiospermas se originam a partir do desenvolvimento do ovário.

As hemácias de mamíferos são isotônicas, quando comparadas a uma solução salina de NaCl a 0,9%. Tais hemácias, colocadas em uma solução com concentração de 0,2% de NaCl, sofrem:

- a) diálise com hemólise.
- b) osmose sem hemólise.
- c) osmose com hemólise.
- d) diálise sem hemólise.

e) plasmólise

Geografia

Para realizar a recuperação ou a preservação do solo, em áreas de declive principalmente, o terraceamento pode ser uma solução para evitar desastres em função da intensidade de fluxo hídrico. A prática humana que segue no caminho contrário a essa solução é:

- a) o reflorestamento
- b) a rotação de culturas
- c) o desmatamento
- d) a semeadura direta
- e) preservação de matas ciliares

Há vários anos ocorre no Brasil o desmatamento de nossas reservas florestais, isto está ocasionando várias conseqüências para população, exceto:

- a) acréscimo do processo de erosão dos solos;
- b) alterações climáticas com elevação da temperatura;
- c) redução da umidade;
- d) assoreamento dos rios;
- e) diminuição do efeito estufa.

Identifique, respectivamente, os países da América do Sul, quanto à região: ANDINO / PLATINO /

GUIANAS:

- a) Chile / Suriname / Bolívia
- b) Venezuela / Bolívia / Guiana Francesa
- c) Argentina / Paraguai / Guiana
- d) Peru / Uruguai / Suriname
- e) Chile/ Uruguai/ Bolívia

Às margens das represas Billings e Guarapiranga, que abastecem a Grande São Paulo, vivem,

irregularmente, cerca de 1.800.000 pessoas. O impacto desta população nas águas represadas é intenso e contínuo. Assinale a alternativa que contém 03 impactos ambientais que alteram a qualidade das águas:

- a) Baixo índice pluviométrico; escassez de água potável; elevação do nível do aquífero.
- b) Baixo consumo de água; poluição do solo; estiagem prolongada.
- c) Contaminação da água; alta insolação; chuvas torrenciais.
- d) Baixa insolação; enchentes; deslizamentos.
- e) Desmatamento; despejo de esgoto; depósito de lixo.

História

Podemos afirmar sobre o período da mineração no Brasil que:

- a) atraídos pelo ouro, vieram para o Brasil aventureiros de toda espécie, que inviabilizaram a mineração.
- b) a exploração das minas de ouro só trouxe benefícios para Portugal.
- c) a mineração deu origem a uma classe média urbana que teve papel decisivo na independência do Brasil.
- d) o ouro beneficiou apenas a Inglaterra, que financiou sua exploração.
- e) a mineração contribuiu para interligar as várias regiões do Brasil e foi fator de diferenciação da sociedade.

A Independência do Brasil:

- a) rompeu o processo histórico;
- b) adaptou a estrutura política do país às



- conveniências da aristocracia rural;
- c) acelerou o processo de modernização econômica;
- d) representou um sério golpe na economia escravista;
- e) representou um retrocesso político, devido à forma monárquica de governo adotada.

Qual das alternativas abaixo aponta características da religião na Idade Média?

- a) Várias igrejas cristãs e protestantes atuavam na Europa Medieval.
- b) A Igreja Católica dominava na Europa Medieval, controlando a produção cultural e tendo grande influência sobre a vida espiritual das pessoas.
- c) As pessoas não davam importância à religião na Idade Média, sendo que grande parte da população era composta por ateus.
- d) Embora monopolizasse a vida religiosa na Idade Média, a Igreja Católica era muito aberta aos avanços científicos e manifestações culturais diversas.
- e) A revolta protestante promovida por Lutero.

O início da Primeira Guerra (1914/1918) completou seu centenário em 2014. Conflito de grandes proporções, ela foi o resultado de disputas econômicas, imperialistas e nacionalistas numa Europa industrializada.

Sobre a Primeira Guerra e seu contexto, todas as alternativas estão corretas, exceto a:

- a) A questão balcânica evidencia as disputas entre Alemanha e Hungria pelo controle do mar Adriático e coloca em choque os movimentos nacionalistas: pan-eslavismo, liderado pela Sérvia e o pan-germanismo, liderado pelos alemães.

b) Apesar de ter começado a guerra como aliada da Tríplice Aliança, a Itália passou para o lado da Tríplice Entente por ter recebido uma proposta de compensações territoriais.

c) A Rússia não permaneceu na guerra até o seu término. Por conta da Revolução socialista foi assinado um tratado com os alemães e os russos se retiraram da guerra.

d) Quando a guerra iniciou, multidões saíram às ruas nos países envolvidos para comemorar o conflito: a lealdade e o patriotismo eram palavras de ordem.

e) N.D.A.

Língua Inglesa

Texto para as questões 25 e 26

Welcome to the Drone Age

The scale and scope of the revolution in the use of small, civilian drones has caught many by surprise. In 2010 America's Federal Aviation Authority (FAA) estimated that there would, by 2020, be perhaps 15,000 such drones in the country. More than that number are now sold there every month. And it is not just an American craze. Some analysts think the number of drones made and sold around the world this year will exceed 1 million. In their view, what is now happening to drones is similar to what happened to personal computers in the 1980s, when Apple launched the Macintosh and IBM the PS/2, and such machines went from being hobbyists' toys to business essentials.

That is probably an exaggeration. It is hard to think of a business which could not benefit from a PC, whereas many may not benefit (at least directly) from drones. But the practical use of these small, remote-controlled aircraft is expanding rapidly. These involve areas as diverse as agriculture, landsurveying, film-making, security, and delivering goods. Other roles for drones are more questionable. Their



use to smuggle drugs and phones into prisons is growing. Instances have been reported in America, Australia, Brazil, Britain and Canada, to name but a few places. In Britain the police have also caught criminals using drones to scout houses to burgle. The crash of a drone on to the White House lawn in January highlighted the risk that they might be used for acts of terrorism. And in June a video emerged of a graffiti artist using a drone equipped with an aerosol spray to deface one of New York's most prominent billboards.

How all this activity will be regulated and policed is, as the FAA's own flat-footed response has shown, not yet being properly addressed. There are implications for safety (being hit by an out-of-control drone weighing several kilograms would be no joke); for privacy, from both the state and nosy neighbours; and for sheer nuisance—for drones can be noisy. But the new machines are so cheap, so useful and have so much unpredictable potential that the best approach to regulation may simply be to let a thousand flyers zoom.

[Source: The Economist September 26th 2015- adapted]



According to the text II, five years ago America's Federal Aviation Authority:

- a) failed to perceive the importance of personal computers.
- b) exaggerated the probable number of drones in circulation today.
- c) expected the number of drones to fall below one million soon.
- d) seriously underestimated the number of drones sold today.
- e) condoned the use of unmanned aircraft for illegal ends.



As used in the text II, the word "drone" is best defined as

- a) a high-pitched noise which can cause serious annoyance.
- b) an unmanned flying machine that has many possible uses.
- c) an object used exclusively by criminals for nefarious purposes.
- d) a multi-purpose flying aid designed for filmmakers and artists.
- e) an unstoppable bore which probably needs to be banned.



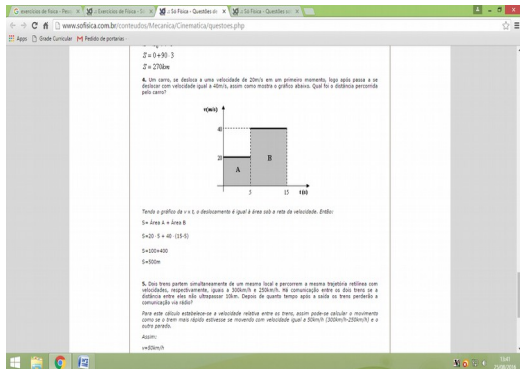
Complete com THERE IS ou THERE ARE e marque a resposta correta:

- _____ a boat floating near the shore.
- _____ people enjoying the sun.
- _____ just a little paradise.

- a) There is / There are / There are.
- b) There are / There is / There are.
- c) There is / There are / There is.
- d) There are / There is / There is.
- e) There are / There are / There is

Física

Um carro, se desloca a uma velocidade de 20m/s em um primeiro momento, logo após passa a se deslocar com velocidade igual a 40m/s, como mostra o gráfico abaixo. Qual foi o distância percorrida pelo carro?

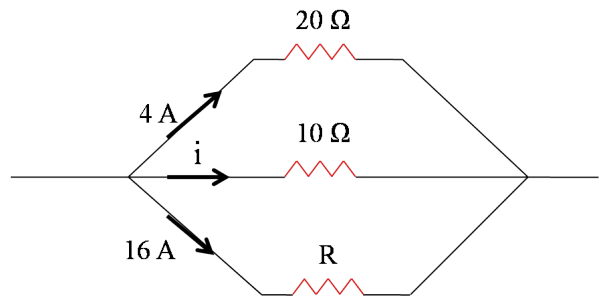


- a) 100 km
 b) 200 km
 c) 300 km
 d) 400 km
 e) 500 km

Qual a massa de um corpo que, partindo do repouso, atinge uma velocidade de 12m/s em 20s? Sabendo que a força aplicada nele tem módulo igual a 30N.

- a) 1,5 kg
 b) 2,5 kg
 c) 15 kg
 d) 25 kg
 e) 50 kg

Na associação de resistores da figura acima, os valores de i e de R são, respectivamente:



- a) 5A e 8Ω
 b) 8A e 5Ω
 c) 1,6A e 5Ω
 d) 8A e 8Ω
 e) 80A e 30Ω

Os conceitos de repouso e movimento são relativos, pois dependem do referencial adotado. Dona Gertrudes, em seu carro, se projeta em cima de um poste a 100 km/h. Tendo resistido ao evento ela vai prestar depoimento na delegacia e afirmou que o poste estava com velocidade de 100 km/h. do ponto de vista exclusivamente da física podemos afirmar que:

- a) O argumento de Gertrudes é absurdo.
 b) Para um referencial no solo terrestre o poste tem velocidade de 100 km/h.
 c) Para um referencial no carro, Gertrudes está com velocidade de 100 km/h
 d) Para um referencial no carro, o poste está com velocidade de 100 km/h
 e) Em relação a qualquer referencial o poste está com velocidade de 100 km/h.

Química

Dados os compostos:

- I - Dióxido de enxofre
 II - Cloreto de sódio
 III - Monóxido de carbono
 IV - Ácido Sulfúrico
 V - H_3BO_3



Apresentam ligações covalentes os compostos:

- a) I e V
- b) III e V
- c) II, IV e V
- d) I, III e IV
- e) I, III, IV e V



Considerando a pilha $\text{Mg}^0 / \text{Mg}^{2+} / \text{Fe}^{2+} / \text{Fe}^0$ e sabendo que o magnésio cede elétrons espontaneamente para os íons Fe^{2+} , é correto afirmar que:

- a) o Mg^0 se reduz.
- b) o Fe^{2+} e o redutor.
- c) o Fe^0 é o anodo.
- d) a solução de Mg^{2+} se diluirá.
- e) o eletrodo positivo ou catodo terá a sua massa aumentada.



No seguinte trecho (adaptado) de uma peça teatral de C. Djerassi e R. Hoffmann, as esposas de três químicos do século XVIII conversam sobre um experimento feito com uma mistura de gases.

“SENHORA POHL – Uma vez o farmacêutico Scheele estava borbulhando [a mistura gasosa] através de uma espécie de água.

MADAME LAVOISIER – Deve ter sido água de cal.

SENHORA PRIESTLEY – A água ficou turva, não ficou?

MADAME LAVOISIER – É o mesmo gás que expiramos... o gás que removemos com a passagem através da água de cal.

SENHORA POHL – Depois ele me pediu que colocasse no gás remanescente um graveto já apagado, apenas em brasa numa das extremidades. Já estava escurecendo.

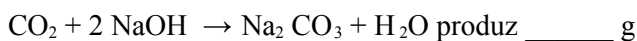
SENHORAPRIESTLEY – E o graveto inflamou-se com uma chama brilhante... e permaneceu aceso!”

Empregando símbolos e fórmulas atuais, podem-se representar os referidos componentes da mistura gasosa por:

- a) CO_2 e O_2
- b) CO_2 e H_2
- c) N_2 e O_2
- d) N_2 e H_2
- e) CO e O_2



A reação completa entre 5,0g de gás carbônico e 8,0g de hidróxido de sódio, segundo a equação:



de carbonato de sódio, restando $\underline{\hspace{2cm}}$ g do reagente colocado em excesso. Os números que preenchem corretamente as lacunas são, respectivamente:

- a) 10,6g e 0,6g.
- b) 12,0g e 1,0g.
- c) 5,8g e 4,0g.
- d) 10,0g e 3,0g.
- e) 8,3g e 0,6g.

Redação

No atual período de crise brasileira, observa-se uma grande insatisfação com a realidade por grande parte das pessoas, com busca de alternativas para reduzir custos e aumentar lucros. No entanto, para muitos parece que a vida segue sem problemas, muitas vezes devido a alienação com a realidade social. Com base na leitura da coletânea, redija um texto argumentativo-dissertativo que discuta a questão-tema abaixo:



Neste momento de crise, qual é o melhor caminho: ser inconsciente e feliz ou consciente e insatisfeito?

Texto 1

Precisamos de clareza nas ideias, coragem nos desafios, informação e vontade, e do alimento dos afetos bons. Num livro interessante alguém verbaliza velhas coisas que a gente só adivinhava; um filme pode nos lembrar da generosidade humana; uma conversa pode nos tirar as escamas dos olhos. Estar informado e atento é o melhor jeito de ajudar a construir a sociedade que queremos, ainda que sem ações espetaculares. Mas, se somos desinformados, somos vulneráveis; se continuarmos alienados, bancaremos os tolos; sendo fúteis cavamos a própria cova; alegremente ignorantes podemos estar assinando a nossa sentença de atraso, vestindo a mordida, assumindo a camisa de força que, informados, não aceitaríamos.

LUFT, Lia. Alegres e ignorantes. Veja. 03 mar. 2010.

Texto 2

Tenho um colega de trabalho que só vive feliz. E não importa se está fazendo frio, calor, se o Vasco ganhou ou se o Flamengo perdeu. Nada disso importa. Ele está sempre feliz. Sempre. Mas mal sabe ler o pobre. Sério que digo pobre não com aquele ar de superioridade e sarcasmo que normalmente vem acompanhando essa expressão. Digo com um ar de compaixão, mas também de inveja. Esse meu amigo, por exemplo, tudo bem que está excluído de tantas coisas legais, tantos mistérios que só são revelados quando lemos, quando nos debruçamos em certas teorias e nos esforçamos para entendê-las e contextualizá-las. Está excluído de um mundo que eu nem me imagino sem. Aliás, que nós, que gostamos de Neruda, entendemos os questionamentos de Freud

e somos surpreendidos com as obras de Picasso não nos imaginamos sem. Ele não se importa se o dólar caiu ou subiu, ou se a qualquer momento o mundo pode mergulhar em um colapso econômico. Mas mesmo assim é feliz. Olho para ele e tento, pergunto quais são suas expectativas, seus sonhos. E simplesmente constato: não há expectativas. Não há idealizações, não há um futuro que o “surpreenderá” pela beleza e pelo recolhimento das sementes plantadas no hoje. E assim ele vive, um dia depois do outro.

ARAÚJO, Magno Paulo. Disponível em:

<<http://www.viverembrasil.com.br/o-ignorantes-sao-mais-felizes-por-magno-paulo/>>. Acesso em: 2 set. 2015.

Texto 3

A ignorância é Felicidade! Frase aparentemente inocente e despreziosa, mas que está cheia de significados e implicações filosóficas. Ela aparece no filme Matrix, numa importante discussão acerca da verdade. Parece supor alguém que conhece os dois lados da moeda: a ignorância e o conhecimento. Alguém que trilhou caminhos bem definidos para alcançar o alvo-conhecimento e, agora, olhando para trás, chega à conclusão que era mais feliz no tempo da ignorância. “Melhor tivesse ficado sem conhecer a verdade, na ignorância”, chega-se a afirmar. De fato, conhecer, muitas vezes, é atormentador.

A IGNORÂNCIA é felicidade. Disponível em:

<<http://filosofiacalvinista.blogspot.com.br/2012/05/ignorancia-e-felicidade.html>>. Acesso em: 2 set. 2015.

Instruções:

Com base nos textos elabore uma redação argumentativa-dissertativa sobre o tema apresentado.

- Dê um título ao seu texto;
- Utilize a forma culta da língua portuguesa;
- Seu texto deve ter no mínimo 20 linhas.

Instruções:

1. Confira o seu número de inscrição. Qualquer dúvida chame o fiscal.
2. Para rascunho utilize o espaço em branco no caderno de questões.
3. Não amasse, não dobre e não rasure esta folha.
4. Escreva nesta folha a tinta (caneta esferográfica azul ou preta).

USO EXCLUSIVO DA FUNEC

0	0	0	0	0	0
1	1	1	1	1	1
2	2	2	2	2	2
3	3	3	3	3	3
4	4	4	4	4	4
5	5	5	5	5	5
6	6	6	6	6	6
7	7	7	7	7	7
8	8	8	8	8	8
9	9	9	9	9	9

NÃO ESCREVA NESTA ÁREA

1º EXAMINADOR NOTA

2º EXAMINADOR NOTA

NÃO UTILIZE ESTA ÁREA - USO EXCLUSIVO DA FUNEC

NOTA

00 01 02 03 04 05 06 07 08 09 10 0,5

TÍTULO:


NÃO ESCREVA NESTA ÁREA

FOLHA DE RESPOSTAS

NOME DO CANDIDATO		Nº DE INSCRIÇÃO
ASSINATURA DO CANDIDATO		DOC. DE IDENTIDADE
LOCAL DA PROVA	CURSO	DATA

NÃO ESCREVA NESTA ÁREA

INSTRUÇÕES

- Confira seus dados impressos nesta folha e assine no local indicado.
- Preencha somente uma resposta por questão. Mais de uma marcação anulará a resposta.
- Não deixe nenhuma questão sem resposta.
- Utilize lápis preto ou caneta esferográfica azul ou preta para preencher as suas respostas.
- Faça marcas fortes conforme o modelo: 
- Qualquer dúvida fale com o fiscal de sala.

USO EXCLUSIVO DA FUNEC

0	0	0	0	0	0
1	1	1	1	1	1
2	2	2	2	2	2
3	3	3	3	3	3
4	4	4	4	4	4
5	5	5	5	5	5
6	6	6	6	6	6
7	7	7	7	7	7
8	8	8	8	8	8
9	9	9	9	9	9

MODELOS DE MARCAÇÕES:

 CORRETA

   INCORRETAS

RESPOSTAS de 01 a 20

01	A	B	C	D	E
02	A	B	C	D	E
03	A	B	C	D	E
04	A	B	C	D	E
05	A	B	C	D	E
06	A	B	C	D	E
07	A	B	C	D	E
08	A	B	C	D	E
09	A	B	C	D	E
10	A	B	C	D	E
11	A	B	C	D	E
12	A	B	C	D	E
13	A	B	C	D	E
14	A	B	C	D	E
15	A	B	C	D	E
16	A	B	C	D	E
17	A	B	C	D	E
18	A	B	C	D	E
19	A	B	C	D	E
20	A	B	C	D	E

RESPOSTAS de 21 a 40

21	A	B	C	D	E
22	A	B	C	D	E
23	A	B	C	D	E
24	A	B	C	D	E
25	A	B	C	D	E
26	A	B	C	D	E
27	A	B	C	D	E
28	A	B	C	D	E
29	A	B	C	D	E
30	A	B	C	D	E
31	A	B	C	D	E
32	A	B	C	D	E
33	A	B	C	D	E
34	A	B	C	D	E
35	A	B	C	D	E
36	A	B	C	D	E
37	A	B	C	D	E
38	A	B	C	D	E
39	A	B	C	D	E
40	A	B	C	D	E

RESPOSTAS de 41 a 50

41	A	B	C	D	E
42	A	B	C	D	E
43	A	B	C	D	E
44	A	B	C	D	E
45	A	B	C	D	E
46	A	B	C	D	E
47	A	B	C	D	E
48	A	B	C	D	E
49	A	B	C	D	E
50	A	B	C	D	E

ATENÇÃO !!!

**NÃO AMASSE,
NÃO DOBRE
E NÃO RASURE
ESTA FOLHA.**